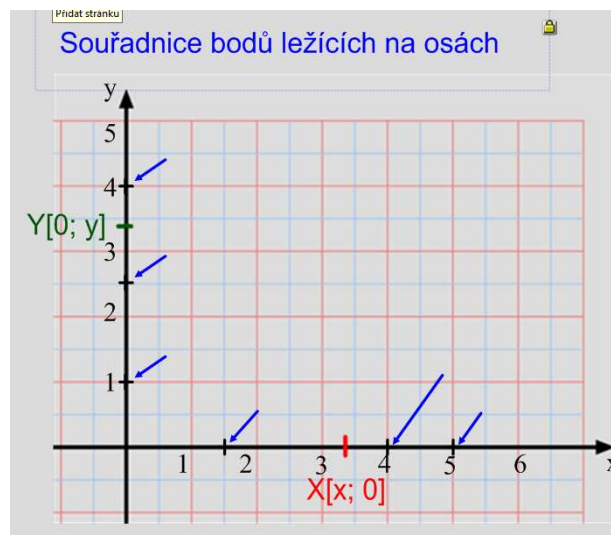
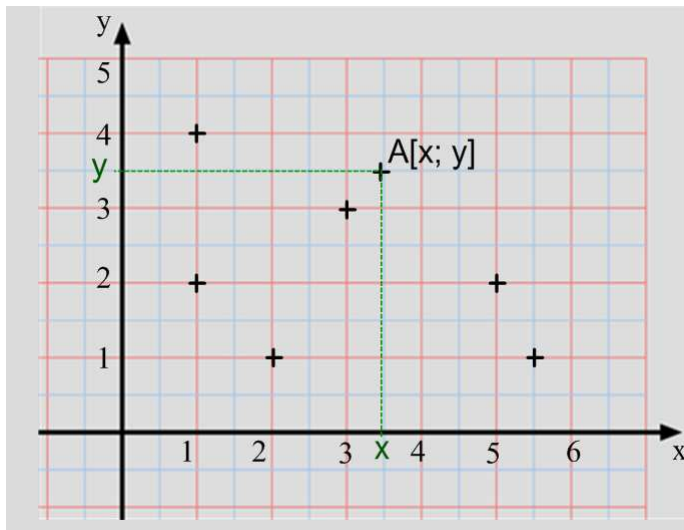
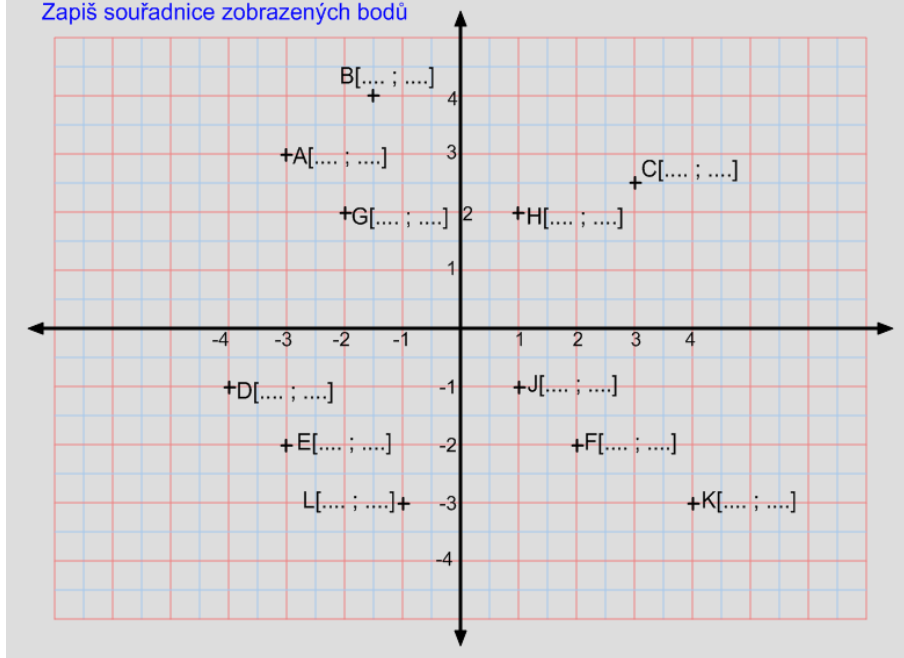


Pravoúhlá soustava souřadnic a souřadnice bodů

Zapiš souřadnice vyznačených bodů



Zapiš souřadnice zobrazených bodů



Každý bod v rovině je dán dvojicí souřadnic x, y .

Zapisujeme: $A[x; y]$

Čteme: „Bod A se souřadnicemi x, y .“

Jako první se vždy uvádí souřadnice x , jako druhá souřadnice y .

Všechny body na ležící na ose x mají souřadnici rovnou

Všechny body ležící na ose y mají souřadnici rovnou

Průsečík os x a y se nazývá

A má souřadnice

Doplň souřadnice bodů a ke každé trojici bodů najdi 4. bod, který doplní obrazec na rovnoběžník

